

10-11 класс. ПЕРВЫЙ ТУР.

Максимальная оценка – 100 баллов. Время на подготовку – 3 часа.

1. [9 баллов]

Многие деятели революционного движения в нашей стране были широко известны как современникам, так и потомкам под вымышленными фамилиями (псевдонимами). Вам предлагаются факты из биографии (или личные характеристики) этих деятелей, а также список их настоящих фамилий и портреты. На основе предложенных материалов заполните таблицу.

2

 <p>М 1</p>	 <p>К? С? 2</p>	 <p>К? 3</p>
 <p>К? 4</p>	 <p>М 5</p>	 <p>Л 6</p>
 <p>С 7</p>	 <p>В? 8</p>	 <p>Т 9</p>

А. «Был, несомненно, самым выдающимся рабочим, которого выдвинула большевистская партия, а пожалуй, и русская революция в целом... Годы каторжных работ и всяких других испытаний обнаружили в нём огромную силу физического и нравственного сопротивления. В течение ряда лет он стоял во главе советских профессиональных союзов, знал массу и умел говорить с ней на её языке». Псевдоним взял по названию одного из сибирских городов.

Б. «Неутомимость его в работе была беспримерна. Его мысль была одинаково напряжена в сибирской ссылке, в Британском музее или на заседании Совета Народных Комиссаров... Его образ жизни в Кремле мало отличался от его образа жизни в эмиграции. Простота обихода, воздержанность в отношении пищи, питья, одежды и всех вообще «благ» жизни вытекали у него не из каких-либо моралистических принципов, а из

того факта, что умственная работа и напряженная борьба не только поглощали его интересы и страсти, но и давали ему то высшее удовлетворение, которое не оставляет места для суррогатов наслаждения».

В. «Энергия, воля и решимость сочетаются с эмпиризмом, близорукостью, органической склонностью к оппортунистическим решениям в больших вопросах, личной грубостью, нелояльностью и готовностью злоупотреблять властью для подавления партии».

Г. «Настоящая фамилия этого человека в сочетании с вопросами, которыми он занимался, становились иногда объектом определенных каламбуров. Ему, в свою очередь, приписывают интересное замечание: «Если у нас возле Иверской часовни на стене написано: «Религия — опиум для народа», то я бы предложил возле ВСНХ повесить вывеску: «Эмиссия — опиум для народного хозяйства».

Д. «^Т Вся работа по практической организации восстания проходила под руководством председателя Петроградского Совета... Можно с уверенностью сказать, что быстрым переходом гарнизона на сторону Совета и умелой постановкой работы Военно-революционного комитета партия обязана, прежде всего, и главным образом, ему».

Е. «Человек выдающихся способностей и хладнокровно беспощадный... Что же касается руководства внешней политикой, то Сюлли, Талейран и Меттерних с радостью примут его в свою компанию, если только есть такой загробный мир, куда большевики разрешают себе доступ».

Ж. «Был одной из самых влиятельных фигур советского руководства во время последней болезни Ленина (1922 – 1923) и выступал с отчетным докладом ЦК на XII-м (1923) и XIII-м (1924) партсъездах, как раньше Ленин. Он считался одним из ведущих теоретиков компартии как глава Коммунистического Интернационала».

З. «Главный оппонент В. И. Ленина на II съезде РСДРП... Захват власти большевиками воспринял отрицательно, протестовал против большевистского произвола, не мог примириться с «аракчеевским пониманием социализма и пугачевским пониманием классовой борьбы», дискредитирующими понятие социализма».

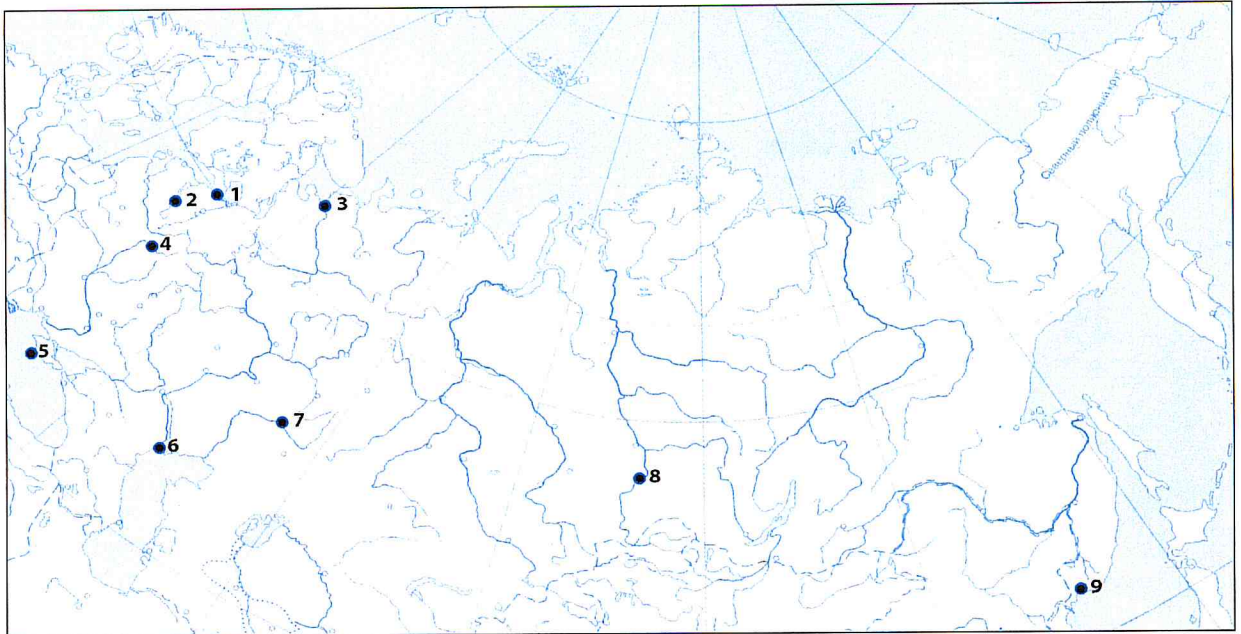
И. «³ Происхождение псевдонима носит случайный характер. История его появления описана в очерке Дзахо Гатуева «Мироньч». По свидетельству очевидца, псевдоним образован от одного из имен церковного календаря... Услышав это имя, он произнес: «Величайший полководец в подполье!»

Настоящая фамилия	Псевдоним	№ портрета	Текст (буква)
Бриллиант	Киров	2	В
Ефремов	Зиновьев	8	И
Ульянов	Ульянов	6	Б
Радомысльский	Молотов	1	Е
Скрябин	Каменев	3	Г
Костриков	Федервизский	4	А
Цедербаум	Троцкий	9	А
Джугашвили	Сталин	7	Ж
Бронштейн	Мартов	5	З

2. [9 баллов]

Перед Вами карта Российской империи, на которой обозначены и пронумерованы 9 городов, которые вошли в состав России или были основаны уже в составе России в XVI – XIX вв. Все эти города и сейчас находятся в составе Российской Федерации и являются либо центрами субъектов федерации, либо городами федерального значения. Применительно к каждому из них Вам нужно определить, что это за город и соотнести его с хронологическим периодом, в который он был основан или включен в состав России. При этом учтите, что имеется в виду дата его окончательного вхождения в состав России вплоть до 1917 года. Ответ оформите в виде таблицы:

ИСТ-11-61



Период основания или окончательного включения города в состав России.

А. 1500 – 1550

Е. 1700 – 1725

Б. 1550 – 1570

Ж. 1725 – 1750

В. 1570 – 1600

З. 1750 – 1800

Г. 1600 – 1650

И ~~И~~ 1850 – 1875

Д. 1650 – 1700

9

Номер города на карте	Период основания или окончательного включения города в состав России (буква)	Название города
1.	Е	САНКТ-ПЕТЕРБУРГ
2.	А	ПСКОВ
3.	В	АРХАНГЕЛЬСК
4.	Д	СМОЛЕНСК.
5.	З	СЕВАСТОПОЛЬ
6.	Б	АСТРАХАНЬ
7.	Ж	ОРЕНБУРГ
8.	Г	КРАСНОЯРСК
9.	И И	ВЛАДИВОСТОК.










3. [8 баллов]

Перед Вами фрагмент из воспоминаний замечательного русского художника Константина Алексеевича Коровина об одном из его близких друзей. Ознакомьтесь с текстом, определите, о ком именно идет речь, и **выберите из предложенных Вам портретов деятелей культуры только те**, на которых изображены **современники К.А. Коровина** и

того, о ком идет речь в тексте. Под выбранными Вами портретами современников прямо в таблице сделайте подписи, кто на них изображен.

«Я всегда поражался его удивительному постижению каждого создаваемого образа... Он никогда не говорил заранее даже друзьям, как он будет петь и играть ту или иную роль. На репетициях никогда не играл, пел вполголоса, а иногда и пропускал отдельные места. И уже только на сцене потрясал зрителя новым гениальным воплощением и мощным тембром своего единственного голоса... Однажды, когда я удивлялся его исполнению, он мне сказал: «Я не знаю, в чём дело. Просто, когда пою Варлаама, я ощущаю, что я Варлаам, когда Фарлафа, что я Фарлаф, когда Дон Кихота, что я Дон Кихот. Я просто забываю себя. Вот и всё. ... Музыку надо чувствовать!.. Ты знаешь ли, я даже забываю, что пою перед публикой. Никакой тут тайны нет. Хотя. Пожалуй, некоторая и есть: нужно любить и верить в то, что делаешь. В то нечто, что и есть искусство... Я не был в консерватории, пел с бродячими певчими, ходил по селам... Артиста сделать нельзя - он сам делается. Я никогда не думал, что буду артистом. Это как-то само собой вышло».

О ком идет речь в тексте? ~~Маяковский~~ Шаляпин.

 Маяковский ✓	 А. Блок +	 М. Цветаева +
	 А. Павлова	
		 Шаляпин. ✓

4. [6 баллов]

В.В. Маяковский писал: «Каждый дюйм бытия земного профамилен и разыменован», описывая политику советской власти относительно топонимики. Вашему вниманию представлены советские названия улиц и переулков; **ваша задача** – правильно соотнести их с историческим периодом, события которого отражены в названии.

Название	Революция и гражданская война	СССР 1922-1941	Великая Отечественная война	СССР 1945-1991
Июльских Дней улица (Нижний Новгород)	✓			
Вали Котика улица			✓	
Воинов-интернационалистов	✓			

4

переулок				
Конноармейская улица	✓			
Краснодонцев улица	✓			
Красный Перекоп улица	✓			
Профинтерна улица		✓		
Проспект Академика Сахарова				✓
26-ти Бакинских комиссаров, улица	✓			
Водопьянова, улица		✓		
Автозаводская улица				✓
Подольских Курсантов, улица	✓			
Улица Архитектора Мельникова		✓		

5. [6 баллов]

Классическая русская литература – это целый кладёшь мелких деталей и черт бытовой жизни Российской империи в XVIII – XIX вв. Однако многие выражения того времени уже непонятны для современного читателя, и задача историка – раскрыть смысл предметов и явлений минувших дней. Ваша задача – объяснить, что означают выделенные слова в приведенных ниже фрагментах из различных литературных произведений.

1. «Честь имею рекомендоваться: Марк Волохов, **15 класса**, состоящий под надзором полиции чиновник, невольный здешнего города гражданин». (И.А. Гончаров).

Ответ:

Звание по Табелю о Рангах

2. «Прощай, немытая Россия, // Страна рабов, страна господ, // И вы, **мундиры голубые**, // И ты, им преданный народ». (М.Ю. Лермонтов).

Ответ:

Жандармерия носила гол. мундиры

3. «Куда ни глянешь, **красный ворот** // Как шиш торчит перед тобой...» (М.Ю. Лермонтов).

Ответ:

Казачьи

4. «Стал он со временем **туз откупной** - // Эксплуататор народного пьянства». (Н.А. Некрасов).

Ответ:

Коррупционер

5. «Вагоны шли привычной линией, // Подрагивали и скрипели; // Молчали **жёлтые и синие**; // В **зелёных** плакали и пели». (А.А. Блок).

Ответ:

Разные классы вагонов в РИ

6. «Он все время путешествия испытывал радость школьника на **вакациях**» (Л.Н. Толстой).

Ответ:

Каникулы

25

ИСТ-11-61

6. [8 баллов]

В XVIII веке Россия неоднократно воевала с Османской империей. Ваша задача соотнести в таблице событие или факт и войну, к которой он относится, и поставить знак «+» в соответствующей графе таблицы. Некоторые факты могут относиться к нескольким войнам одновременно.

Факт	Прутский поход	Война 1735-39	Война 1768-74	Война 1787-91
В ходе военных действий был взят Хотин		+		+
Русские войска действовали в союзе с царями Имеретии и Картли-Кахетии			+	
Основным союзником в войне выступила Молдавия	+			
Русские войска действовали на территории Крыма		+		+
В ходе военных действий был взят Очаков		+		+
По итогам войны, России запрещалось иметь свой военный флот в Чёрном море	+			
Русские войска действовали в союзе со Священной Римской империей				+
Основные силы русской армии не дошли до Дуная	+		+	
Русский флот нанес серьезные поражения турецкому в нескольких морских сражениях			+	+
Россия добровольно отказалась от получения контрибуции с Турции			+	

9

ИСТ-1161

7. [9 баллов]

Перед Вами изображения событий одной из войн и медалей, отчеканенных в честь данных событий. Определите, о какой войне идет речь, назовите каждое из событий, дайте точную (до года) датировку и соотнесите с медалью. Свой ответ оформите в виде таблицы, расположив события в хронологической последовательности.



А.



Б.



В.

УСТ-11-61



Г.



Д.



Е.



3.



4.



5.



6.



7.

Название войны

СЕВЕРНАЯ ВОЙНА. (1700-1721)

Полностью
покажите
местами эти
ответы

События (в хронологической последовательности)	Дата (год)	Изображение события (буква)	Медаль (цифра)
ВЗЯТИЕ ОРЕШКА (ИТЕНБУРГА)	+ 1702	Г	1
ОСНОВАНИЕ С-ПЕТЕРБУРГА.	+ 1703	Ж	5
ЗАХВАТ ДВУХ ШВЕДСК. КОРАБЛЕЙ В УСТЬЕ НЕВЫ.	+ 1703	А	2
ЛЕСНАЯ	+ 1708	И	4
ПОЛТАВА	+ 1709	В	3
ГАНГУТ	+ 1714	Д	6.
ГРЕНГАМ	+ 1721	Е.	7

8. [10 баллов]

Соотнесите название и информацию об ордене Великой Отечественной войны с его изображением. Ответ оформите в виде таблицы.

1. Орден Победы
2. Орден Отечественной войны
3. Орден Суворова
4. Орден Богдана Хмельницкого
5. Орден Ушакова
6. Орден Кутузова

7. Орден Нахимова
8. Орден Красной Звезды
9. Орден Александра Невского
10. Орден Славы



- I. Учрежден в июле 1942 года (I и II степени), в феврале 1943 г. (III степень). Награждались командиры Красной Армии за хорошо разработанный и успешно осуществленный план операции.
- II. Учрежден в марте 1944 года. Награждались офицеры Военно-Морского флота за выдающиеся успехи в разработке, проведении и обеспечении морских операций, в результате которых была отражена наступательная операция противника или обеспечены активные операции флота, нанесен противнику значительный урон и сохранены свои основные силы.
- III. Высший военный орден. Учрежден в ноябре 1943 года. Награждались лица высшего командного состава за успешное проведение крупных боевых операций.
- IV. Учрежден в мае 1942 года. Награждались лица рядового и начальствующего состава Красной Армии, ВМФ и партизанских отрядов.
- V. Учрежден в июле 1942 года. Награждались офицеры и генералы Красной Армии за выдающиеся успехи в деле управления войсками.
- VI. Учрежден в марте 1944 года. Награждались офицеры Военно-Морского флота за выдающиеся успехи в разработке, проведении и обеспечении морских активных операций, в результате чего в боях за Родину была достигнута победа над численно превосходящим врагом.
- VII. Учрежден в ноябре 1943 года. Награждались лица рядового и сержантского состава Красной Армии, а в авиации и лица, имеющие звание младшего лейтенанта,

ИСТ-11-61

- проявившие в боях за Советскую Родину славные подвиги храбрости, мужества и бесстрашия.
- VIII. Учрежден в июле 1942 года. Награждались командиры Красной Армии за успешное руководство боевыми операциями. Изначально орден был учрежден в 1725 году Екатериной I для награждения за слуги перед Отечеством военных и гражданских лиц, в 1917 году орден был упразднен.
- IX. Учрежден в октябре 1943 для награждения рядового, сержантского состава, офицеров и генералов Красной Армии, ВМФ, руководящих партизанских отрядов за особую решительность и умение в операциях по разгрому врага, высокий патриотизм, мужество и самоотверженность. Это единственный орден СССР, на котором надпись сделана не на русском языке.
- X. Учрежден в апреле 1930 года. Награждались военнослужащие рядового и начальствующего состава Красной Армии за выдающиеся заслуги в обороне СССР как в боевое, так и в мирное время.

Название ордена	Изображение ордена	Описание
1	К	III /
2	З ✓	VII —
3	Ж ✓	IV —
4	Е	IX /
5	А	VI /
6	Б —	V —
7	И	II /
8	В	X /
9	Г	VIII /
10	А ✓	I —

9. [6 баллов]

Верно ли, что:

1. Владимир Святой захватил власть в Киеве, опираясь на помощь варягов?
2. Владимир Святой никогда не посещал европейские государства? *Польша?*
3. Старший сын Владимира Святого умер при жизни отца?
4. После вокняжения в Киеве Владимира Святого последовали гонения на христиан?
5. Владимир Святой первым из русских князей установил контакты с Англией?
6. В правление Владимира Святого Русь посетил миссионер Бруно Кверфуртский?
7. При Владимире Святом началась чеканка первых русских монет?
8. Владимир Святой был похоронен в Софии Киевской?
9. Канонизация Владимира Святого произошла при Владимире Мономахе?
10. Мощи Владимира Святого были обретены Петром Могилой?
11. Киевский университет до революции носил имя Владимира Святого?
12. Владимир Святой почитается как православными, так и католиками?
13. Памятник Владимиру Святому является старейшим скульптурным памятником Киева?

ВЕРНО	НЕВЕРНО
1, 4, 6, 9, 10, 11, 13	3, 7, 8, 2, 5, 12

10. [5 баллов]

Распределите потомков князя Дмитрия Донского, имена которых приведены ниже, по поколениям (впишите буквы, соответствующие правильным ответам):

- Сыновья в з т т
- Внуки а и б т т т
- Правнуки ж т
- Праправнуки к а т т
- Прапраправнуки в г т т

5

- а) Василий II
- б) Василий Косой
- в) Иван IV
- г) Владимир Старицкий
- д) Андрей Старицкий
- е) Василий I

- ж) Иван III
- з) Юрий Звенигородский
- и) Дмитрий Шемяка
- к) Василий III

11. [7 баллов]

Заполните пробелы в тексте. Ответ оформите в виде перечня элементов под соответствующими номерами.

На время княжения (1 – имя князя) (2 – даты княжения) приходится успешная война с Волжской Булгарией. В честь одержанной победы по его приказанию неподалеку от его княжеской резиденции (3 – название резиденции) была воздвигнута замечательная церковь (4 – название церкви). Этот князь стремился овладеть и великокняжеским престолом, и Новгородом. Его войска взяли (5 – название города) и учинили там страшный разгром. Однако, в отличие от своего отца (6 – имя князя), он ставил своей главной целью укрепление собственного (7 – название княжества) княжества. Развернутое при нем активное каменное строительство также призвано было подчеркнуть его могущество. В годы его княжения в новой столице княжества (8 – название города) по примеру Киева были построены (9 – название архитектурного памятника) и (10 – название собора) собор. В результате заговора он был убит своими приближенными. В борьбе за власть между его младшими братьями победил (11 – имя князя) по прозвищу (12 – прозвище). Этот князь завещал престол не старшему своему сыну, а второму – (13 – имя князя). Этому князю было суждено погибнуть в битве с монголами на реке (14 – название реки) в (15 – год).

- | | |
|-----------------------------------|------------------------------|
| 1) <u>Андрей Боголюбский</u> + | 9) <u>Золотые ворота</u> + |
| 2) <u>1167 – 1182</u> | 10) <u>Успенский</u> + |
| 3) <u>Боголюбово</u> + | 11) <u>Семён</u> |
| 4) <u>Покрова, на Нерли</u> + | 12) <u>Большое Гнездо</u> + |
| 5) <u>Киев</u> + | 13) <u>Юрий</u> + |
| 6) <u>Юрий Долгорукий</u> + | |
| 7) <u>Владимирско-Суздальск</u> + | 14) <u>Сити (или Сить)</u> + |
| 8) <u>Владимире</u> + | |
| 15) <u>1238</u> + | |

6

12. [7 баллов]

Перед Вами – отрывки из исторических источников, повествующих о пожарах Москвы. Соотнесите фрагменты с предложенными датами. Дайте обоснование датировки ссылками на текст источников. Ответ оформите в виде таблицы. **Ответы без обоснования оцениваться не будут!** Обратите внимание: две даты в предложенной таблице – лишние.

Фрагмент № 1. 24-го мая, в день Вознесения, татары из Крыма совершенно сожгли главный город москвиты Москву; в этом пожаре сгорели более 40000 домов, господских усадеб и жилищ со всеми церквами и амбарами, и погибло около трехсот тысяч человек, старых и молодых. Этот пожар продолжался всего только три часа. Потому что татары пришли в 8 часов утра с 40000 человек и зажгли город, а в 11 уже все сгорело до тла. Тут москвиту было отплачено за все, что он сделал с бедной Ливонией и Финляндией прошлую зимою.

Фрагмент № 2. Солдаты десятками бегали в город, выхватывали из горящих русских домов всякие жизненные припасы, напитки, одежду, возвращались с этой добычей в лагерь и делились даже с офицерами, которые были всему этому очень рады... В таком положении пробыли мы до третьего дня, когда наконец были снаряжены команды под

начальством офицеров и охраной Старой гвардии, чтобы идти в город и взять оттуда одежды и припасов. Там, проходя мимо погребов, можно было видеть там пьяных солдат, которые с бутылками в руках кричали проходящим: «Сюда, товарищ!»

Фрагмент №3. Седмочисленныя же боляре Московския державы и всю власть Русския земли предаша в руке литовских воеводъ. Того же лета, марта въ 19, излился фиаль горести, царствующему граду Москве разорение. Падоша тогда высокоздания домове, иже красотами блистающияся, огнем поядошася, и вси мудроверхия церкви, яже преже божественною славою сияюще, скверными рукама до конца разоришася. И множество христиансково народа мечемъ плеча литовскаго разсекошася, а инии от домовъ своихъ и от града скокомъ бежаша, понеже спастися желаху. И тако литовския люди обладаша Москвою два лета и 5 месяцъ бедно же, поне и русския люди не отступиша и убивающе многихъ.

Фрагмент №4. И отвориша врата градная, и выйдоша съ своимъ княземъ и с дары многими к царю... И в томъ часе начаши татарове сечи их по ряду напрасно. Преже всех их убиень бысть князь Остей пред градом, и потом начаша сечи попов и игуменов, аще и в ризах съ кресты, и черных люди.<...> И бяше дотоле, преже видети, была Москва град великъ, град чюдень, градъ многочеловечень. И ныне видети его нечего, разве токмо земля, и персть, и прах, и пепел. <...> Тогда же бысть суцу Киприану митрополиту на Тфери, и тамо избывшу ему ратнаго нахожения, и приеха на Москву октября 7.

Фрагмент №5. И так как народ все еще был в большом страхе, вспоминая о недавнем нашествии татар, то Борис приказывал поджигать Москву в разных местах, и сгорело более 200 домов, и все поджигатели были подкуплены Борисом; таким образом, он снова навел страх на всю страну; сверх того, он послал воеводами в пограничные города несколько человек, которые лживо писали, что крымский хан с большим войском снова готовится вторгнуться в страну, и посылали письма с такими вестями в Москву, так что повергли всю страну в такой страх, что народ забыл обо всех делах и забыл о смерти или убиении Димитрия.

Фрагмент №6. В коллегии, канцелярии и конторы к описям после случившегося на Троицу пожара определить людей добрых, кого Сенатская контора заблагорассудит. После пожара на тех местах, где денежная казна стояла и прочие медали и погорели, сыскивать слитков серебра, меди и медали, и отдавать на Монетный двор<...>, о том к тайному советнику и кавалеру графу Михаилу Гавриловичу Головкину послать указ. О судьбе колокола Моториных особое розыскание надлежит произвести. В Артиллерийскую Контору подтвердить указом, чтоб в Москве в городе пороха отнюдь не держали ни чьего.

Фрагмент №7. Июня 21 во вторник загорелся храм Воздвижение честнаго Креста за Неглимною на Арбатской... А митрополита Макария едва вызвавши из церкви, великаго для поущения Божия дымнаго духа едва не подзадохся... А стоял царь князь великий в своем селе в Воробьеве и з своею царицею з великою княгинею Анастасиею. Того же месяца 26 на пятый день после пожару черные люди града Москвы всколебашася и убиша камением царева великаго князя боярина князя Юрья Васильевича Глинского.

Дата	Номер фрагмента	Основания для датировки
1382	4	Похтамыш сжег Москву, после того как русские сваялись.
1408		
1547	7	После восцарения Ивана IV как раз был очень сильный пожар, женой его была Анастасия.
1571	4	Доклад Девлет-Герея был в 1571 и он сумел взять Москву.
1591	5	Упоминается Борис Годунов и царевич Дмитрий

1611	3	УПОМИНАЕТСЯ СИМБОЛЯЩИКА.
1714		
1737	6	ЕСЛИ НЕ ОШИБАЮСЬ ЕЩЕ КАНЦЕЛЯРИИ ПОЯВИЛИСЬ, КАК РАЗ ПРИ АННЕ ИОАННОВНЕ, И НЕ ПЕТРОВСКОЕ ЭТО ВРЕМЯ.
1812	2	СТАРАЯ ГВАРДИЯ - ЧАСТЬ НАПОЛЕОНОВСКОЙ АРМИИ. В 1812 ГОДУ НАПОЛЕОН ХОДИЛ И В РОССИЮ.

13. [10 баллов]

Перед Вами графики, которые отражают различные социально-экономические процессы, проходившие в России (РСФСР) в XX веке. Отдельно даны названия этих графиков. Внимательно их изучив, соотнесите по номерам графики и их названия, обосновав свое соотнесение спадами и подъемами отображенного процесса (приведите не менее 1 обоснования). Ответ оформите в виде таблицы. **Ответы без обоснования оцениваться не будут!**

Номер графика	Номер заголовка	Обоснование
1	2 +	НАСЕЛЕНИЕ РСФСР И РОССИИ ТАК И РОСЛО! ЕСТЬ СПАД ПО ВРЕМЯ ВОВ И КОНЕЧНАЯ ТОЧКА, ПРИМЕРНО СОВПАДАЕТ С СОВРЕМЕННЫМ ПОЛОЖЕНИЕМ. +
2	3 +	АНТИАЛКОГОЛЬНАЯ КОМПАНИЯ ПРОСТО НАЛИЦО. +
3	5 +	КОЛИЧЕСТВО АВТОМОБИЛЕЙ НА 1000 НАСЕЛЕНИЕ - ЕДИНСТВЕН. ГРАФИК ГДЕ НАВЕРНО ПРАКТИЧЕСКИ НЕВОЗМОЖНО. —
4	1 +	ГЕОГРАФИЯ В ПОМОЩЬ! ПРИМЕРНЫЕ ЦИФРЫ ДОБЫЧИ НЕФТИ ВИДНЫ! И РЕЗКИЙ РОСТ 1970-х, И КРИЗИС 1986, И НАРАСТАНИЕ В 2000-х +
5	4 +	ОТЛИЧНА ВИДНА КОЛЛЕКТИВИЗАЦИЯ И ЗАМЕЧЫ РЕФОРМЫ ХРУЩЕВА, ТАКЖЕ +

Заголовки графиков:

1. Добыча нефти (млн. тонн в год).
2. Численность населения (млн. человек).
3. Продажа вина (млн. дкл. в год).
4. поголовье крупного рогатого скота (млн. голов).
5. Количество автомобилей на 1000 чел. населения (штук).

ИСТ-11-61

График 4.

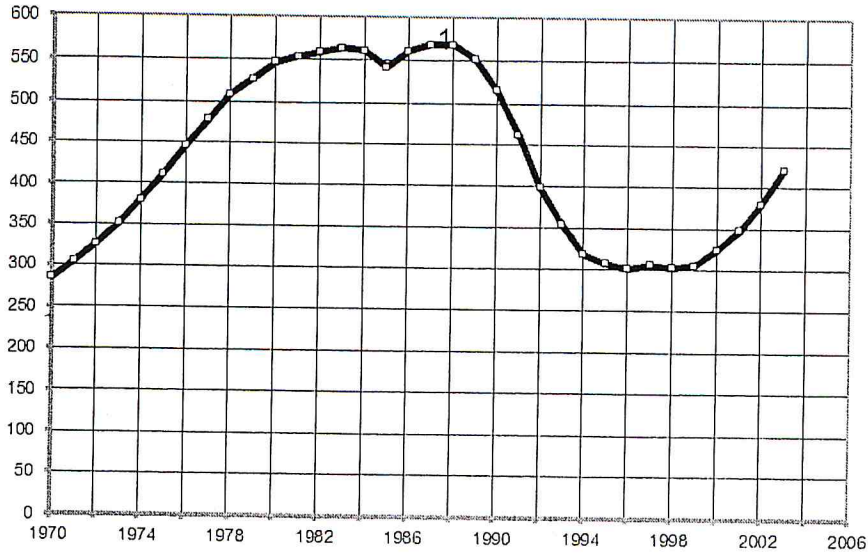
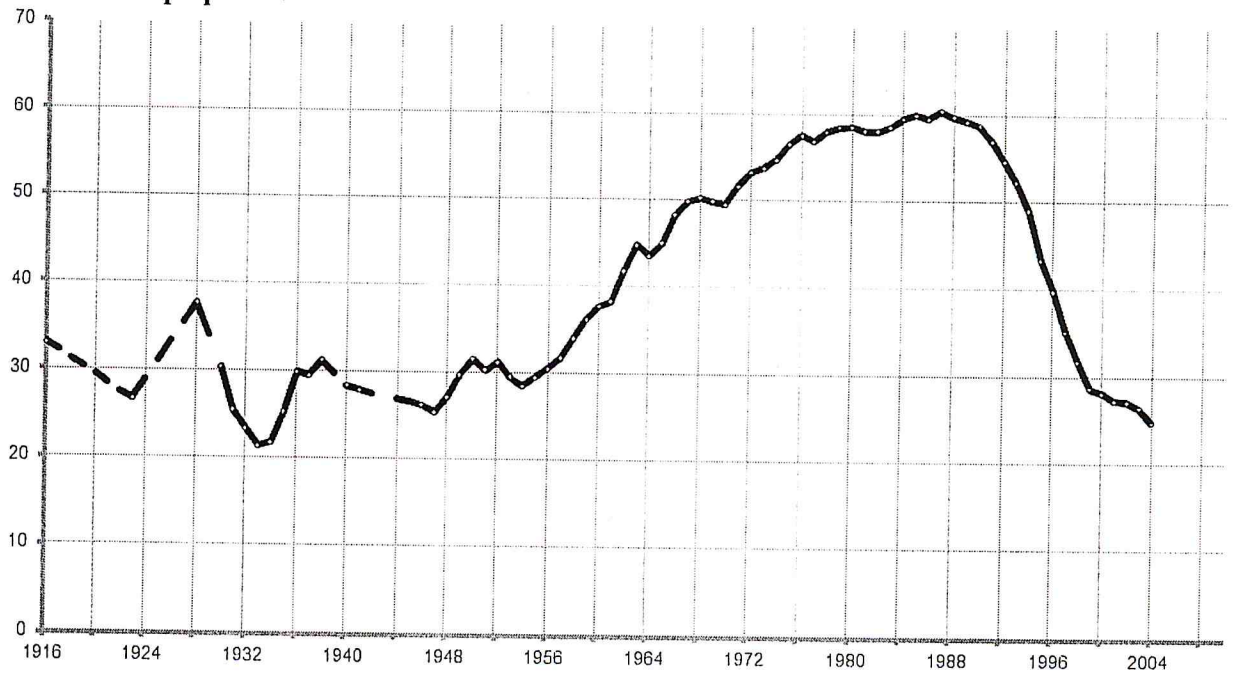


График 5.



ЖЕЛАЕМ УДАЧИ!!!
ДО ВСТРЕЧИ ВО ВТОРОМ ТУРЕ!!!