

РЕГИОНАЛЬНЫЙ ЭТАП ВСЕРОССИЙСКОЙ ОЛИМПИАДЫ
ШКОЛЬНИКОВ 2019/2020 УЧЕБНОГО ГОДА
ПО ОСНОВАМ БЕЗОПАСНОСТИ ЖИЗНЕДЕЯТЕЛЬНОСТИ

Код/шифр участника

1	0	-	4	4	
---	---	---	---	---	--

Кустова Екатерина Алексеевна

(фамилия, имя, отчество)

11

(класс)

*Муниципальное Бюджетное Общеобразова-
тельное учреждение «Бабкинская СОШ»*

(полное наименование образовательной организации)

ВСЕРОССИЙСКАЯ ОЛИМПИАДА ШКОЛЬНИКОВ ПО ОСНОВАМ
БЕЗОПАСНОСТИ ЖИЗНЕДЕЯТЕЛЬНОСТИ
(РЕГИОНАЛЬНЫЙ ЭТАП)
ТЕОРЕТИЧЕСКИЙ ТУР

старшая возрастная группа (10-11 классы)

Код/шифр участника

1	0	-	4	4	
---	---	---	---	---	--

Уважаемый участник Олимпиады!

Вам предстоит выполнить теоретические (письменные) и тестовые задания.

Время выполнения заданий теоретического тура 4 академических часа (180 минут).

Выполнение теоретических (письменных) заданий целесообразно организовать следующим образом:

– не спеша, внимательно прочитайте задание и определите, наиболее верный и полный ответ;

– отвечая на теоретический вопрос, обдумайте и сформулируйте конкретный ответ только на поставленный вопрос;

– если Вы отвечаете на задание, связанное с заполнением таблицы или схемы, не старайтесь детализировать информацию, вписывайте только те сведения или данные, которые указаны в вопросе;

– особое внимание обратите на задания, в выполнении которых требуется выразить Ваше мнение с учетом анализа ситуации или поставленной проблемы. Внимательно и вдумчиво определите смысл вопроса и логику ответа (последовательность и точность изложения). Отвечая на вопрос, предлагайте свой вариант решения проблемы, при этом ответ должен быть кратким, но содержать необходимую информацию;

– после выполнения всех предложенных заданий еще раз удостоверьтесь в правильности выбранных Вами ответов и решений.

Выполнение тестовых заданий целесообразно организовать следующим образом:

– не спеша, внимательно прочитайте тестовое задание;

– определите, какой из предложенных вариантов ответа наиболее верный и полный;

– обведите кружком букву, соответствующую выбранному Вами ответу;

– продолжайте таким образом работу до завершения выполнения тестовых заданий;

– после выполнения всех предложенных заданий еще раз удостоверьтесь в правильности выбранных Вами ответов;

– если потребуется корректировка выбранного Вами варианта ответа, то неправильный вариант ответа зачеркните крестиком, а новый выбранный ответ обведите кружком.

Предупреждаем Вас, что:

– при оценке тестовых заданий, где необходимо определить один *правильный ответ*, 0 баллов выставляется как за неверный ответ, а также, если участником отмечены несколько ответов (в том числе правильный), или все ответы;

– при оценке тестовых заданий, где необходимо определить все *правильные ответы*, 0 баллов выставляется, если участником отмечено большее количество ответов, чем предусмотрено в задании (в том числе правильные ответы) или все ответы.

Задание теоретического тура считается выполненным, если Вы вовремя сдаете его членам жюри. **Максимальная оценка - 200 баллов.**

Желаем вам успеха!

Общая оценка результата выполнения участником заданий теоретического тура 105 баллов

Председатель жюри _____

МОДУЛЬ 1

ЗАДАНИЕ 1. Большинству инфекционных болезней свойственна определённая последовательность развития и течения. Заполните таблицу, вписав название периода развития и течения инфекционной болезни в зависимости от приведенных симптомов.

Название периода	Описание симптомов
начальный	Период проявления общих признаков заболевания. В этот период ещё нет чётко выраженных признаков конкретного заболевания
утишение выздоровление	Период, когда постепенно исчезают основные признаки болезни, начинается выздоровление организма, постепенно восстанавливаются нарушенные функции организма
активный	Период максимального проявления наиболее существенных и специфических признаков конкретного заболевания
инкубационный	Промежуток времени от момента заражения до появления первых признаков болезни

Оценочные баллы: максимальный – 12 баллов; фактический – 12 баллов

Подписи членов жюри _____

ЗАДАНИЕ 2. Установите соответствие между назначением узла и его названием, вписав ответ в таблицу.

	Назначение
1	Для связывания верёвок одинакового диаметра
2	Для крепления верёвки к опоре
3	Для закрепления основной верёвки к карабину
4	Вспомогательные узлы


	Название узла
А	Баррел (полугрейпвайн удавка)
Б	Полугрейпвайн
В	Проводник-восьмерка
Г	Встречная восьмерка

Ответ:

1	2	3	4
Г	Б	В	А

Оценочные баллы: максимальный – 8 баллов; фактический – 2 баллов

Подписи членов жюри _____



ЗАДАНИЕ 3. Вам исполнилось 14 лет и родители на День рождения подарили сертификат на обучение в автошколе. После изучения правил дорожного движения Вы управляли автомобилем на автодроме, в жилой зоне, во дворе своего дома, а через несколько занятий Вам доверили управлять транспортными средствами на автомагистрали. Перечислите какие нарушения были допущены (что из перечисленного запрещено делать?).

1. Нельзя управлять транспортными средствами на автомагистрали без документов, т.е. водительских прав, а также без страхового свидетельства.



2. Нельзя управлять транспортными средствами в жилой зоне без водительских прав, это нарушает УК РФ.


3. Нельзя управлять транспортными средствами без водительского удостоверения

Оценочные баллы: максимальный – 12 баллов; фактический – 0 баллов

Подписи членов жюри

ЗАДАНИЕ 4. Проанализируйте указанные в таблице вредоносные программы. Определите, поставив знак «+» в соответствующем столбце таблицы, какие вредоносные программы, по системе классификации «Лаборатории Касперского», представляют наименьшую опасность, а какие наибольшую опасность.

Вредоносные программы представляющие наименьшую опасность	Вредоносные программы по системе классификации «Лаборатории Касперского»	Вредоносные программы представляющие наибольшую опасность
f	Net-Worm	
	Virus	+ 
p 	Exploit	
	DoS	+
	Noax	f

Оценочные баллы: максимальный – 10 баллов; фактический –  баллов

Подписи членов жюри _____

ЗАДАНИЕ 5. Группа молодых людей посетила футбольный матч, при этом допустив ряд нарушений правил поведения зрителей при проведении официальных спортивных соревнований. Прочитайте приведённый ниже текст перечислите какие нарушения были допущены (что из перечисленного запрещено делать?).

Молодые люди надели маски с символикой любимого клуба. Придя на трибуну, они обнаружили, что их места заняты, поэтому были вынуждены довольствоваться местами на лестницах и в проходе напротив выхода. Друзья устроили флэшмоб за здоровый образ жизни, главным героем которого стала принесенная ими маленькая собачка. Итогом флэшмоба стало изображение агитационного плаката на одной из опор трибуны.

1. Место нахождения людей были заняты, маски были нарушены их права, эти места были или куплены, следовательно они должны были на них сидеть

2. Нарушение правил пожарной безопасности, молодые люди ~~закрыли~~ закрыли выход, а также лестницу, по которой проходит эвакуация 3

3. Устраивание флэшмобов во время соревнований, тем самым мешали другим смотреть матч, а также нарушали правила ведения себя в общественном месте. 3

4. Издевательство над животными, маленькая собачка, которую молодые люди использовали в качестве главного героя. 3

5. Прочие нецензурные высказывания, а также размещение рекламы без согласования с собственником трибуны. 3

Оценочные баллы: максимальный – 15 баллов; фактический – 12 баллов

Подписи членов жюри _____

ЗАДАНИЕ 6. В целях своевременного информирования населения о возникновении угрозы террористического акта и организации деятельности по противодействию его совершению на отдельных участках территории Российской Федерации могут устанавливаться уровни террористической опасности. Соотнесите уровень террористической опасности с его цветовым обозначением и случаем, в котором он устанавливается, вписав ответ в таблицу (вставив соответствующую букву).

Уровень террористической опасности		Цветовое обозначение уровня террористической опасности		В каком случае устанавливается уровень террористической опасности	
1	Повышенный	А	«Желтый»	Г	При наличии информации о совершенном террористическом акте либо о совершении действий, создающих непосредственную угрозу террористического акта
2	Высокий	Б	«Красный»	Д	При наличии подтвержденной информации о реальной возможности совершения террористического акта
3	Критический	В	«Синий»	Е	При наличии требующей подтверждения информации о реальной возможности совершения террористического акта

Ответ:

Уровень террористической опасности	1	2	3
Цветовое обозначение уровня террористической опасности	В	А	Б
В каком случае устанавливается уровень террористической опасности	Е	Д	Г

Оценочные баллы: максимальный – 18 баллов; фактический – 18 баллов

Подписи членов жюри _____

ЗАДАНИЕ 7. В цветографических изображениях знаков безопасности используются определенные сигнальные цвета. Из приведённого ниже списка выберите для каждого сигнального цвета соответствующее смысловое значение, область применения и контрастный цвет. Результат занесите в таблицу, вписав цифру, соответствующую правильному ответу.

А) Смысловое значение:

1. Возможная опасность.
2. Непосредственная опасность.
3. Пожарная техника, средства противопожарной защиты, их элементы.

Б) Область применения:

4. Запрещение опасного поведения или действия
5. Обозначение и определение мест нахождения пожарной техники, средств противопожарной защиты
6. Предупреждение, предостережение о возможной опасности
7. Сообщение об аварийном отключении или аварийном состоянии оборудования.

В) Контрастный цвет:

8. Белый
9. Черный

Ответ:

Сигнальный цвет	Смысловое значение	Область применения	Контрастный цвет
Красный	2 2	4, 7 4	8 2
Жёлтый	1, 3 0	5, 6 0	9 2

Оценочные баллы: максимальный – 18 баллов; фактический – 10 баллов

Подписи членов жюри

Кобяков - *С*


ЗАДАНИЕ 8. Ваша семья собирается поехать за границу. Вам поручили разработать памятку по обеспечению безопасности. Вы решили взять за основу выписку из **Требований по обеспечению безопасности туристов**, но часть текста оказалась утерянной. Восстановите текст, вписав пропущенные слова (словосочетания).

Туристы (экскурсанты) при совершении путешествий (экскурсий) в целях обеспечения личной безопасности обязаны:

- 2 1. Соблюдать законы, правила, порядки страны временного пребывания, уважать ее социальное устройство, обычаи, традиции, религиозные верования.
- 2 2. Сохранять окружающую природную среду; бережно относиться к памятникам природы, архитектуры, культуры в стране временного пребывания.
- 2 3. Соблюдать правила всегда в страну временного пребывания и всегда из страны временного пребывания, а также страны временного проезда.
- 2 4. Проходить профилактические мероприятия в соответствии с международными и внутренними медицинскими требованиями в случае совершения путешествия в страну временного пребывания, в которой они могут подвергнуться риску заражений заболеваний.
- 2 5. Соблюдать на маршрутах повышенной опасности дополнительные меры безопасности: использовать специальное снаряжение, оборудование, выполнять установленные требования и инструкции, подчиняться решениям инструктора-проводника, пройти соответствующий инструктаж.

Оценочные баллы: максимальный – 18 баллов; фактический – 13 баллов

Подписи членов жюри

Кобу 

ЗАДАНИЕ 9. Прочитайте приведённый ниже текст. Ответьте на вопросы:

А) Какое природное явление описано в тексте?

Б) Что может произойти дальше?

В) Составьте краткие рекомендации (правила поведения) для очевидцев данного явления.

На берегу океана начали происходить странные явления: вода ушла далеко от берега, смолк шум прибоя, исчезли животные и птицы. Люди пошли собирать ракушки с обмелевшего дна океана. Затем накатилась волна, выбросившая на берег много рыбы.

2 А) В тексте описано такое природное явление как цунами или цунами, происходящее в результате землетрясения в океане

3 Б) Дальше может произойти увеличение волн, землетрясение на суше, а также обрушение зданий

В) Правила поведения при цунами / цунами,

1. Не паниковать

2. Покинуть берег как можно скорее, помочь детям и старикам выбраться с берега

3. Сообщить в 112, описать ситуацию

4. Выбраться на возвышенность или укрыться в здании дальше от берега на верхних этажах

5. Демонстрировать пример спасательной, при неэффективности выбраться самому

Оценочные баллы: максимальный – 15 баллов; фактический – 9 баллов

Подпись членов жюри

Kobayashi

ЗАДАНИЕ 10. Поражающие факторы источников техногенных ЧС по механизму действия подразделяют на факторы физического и химического действия. Перечислите поражающие факторы физического действия.

1. Ударная волна +2

2. Выброс пыли

3. Вредные пары

4. Осколки от взрывов +2

5. Радиационное воздействие +2

6. Световое воздействие

7. Ущерб взрыва

8. Химические выбросы

9.

Оценочные баллы: максимальный – 10 баллов; фактический – 6 баллов

Подписи членов жюри

ЗАДАНИЕ 11. На рисунке изображены части и механизмы автомата АК-74М. Ответьте на вопросы.

А) Какая важная часть отсутствует?



Б) Для чего предназначена часть, отсутствующая на рисунке?

А) Отсутствует крышка затворного механизма

Б) Предназначена для защиты затворной рамы с газовым поршнем

Оценочные баллы: максимальный – 16 баллов; фактический – 0 баллов

Подписи членов жюри

ЗАДАНИЕ 12. В соответствии с Уставом гарнизонной и караульной служб Вооруженных Сил Российской Федерации часовой имеют право сменить или снять с поста только начальник караула, помощник начальника караула и разводящий, которому подчинен часовой.

А) Кто может снять часового с поста в случае, если перечисленные лица не могут это сделать?

Б) Какое дополнительное условие при этом требуется?

А) 1. Разводящий

2. Воинствующие должности после нач. караула

3. Другой часовой

4. Помощник разводящего

Б) 1. Со специальной ~~требования~~ письменным разрешением от начальника караула, помощника ^{его} и разводящего.

2. При условии, что часовой находится в его подчинении.



3. При смене караула

4. С письменным приказом разводящего

Оценочные баллы: максимальный – 20 баллов; фактический – 0 баллов

Подписи членов жюри

МОДУЛЬ 2
Тестовые задания

№ п/п	Тестовые задания	Макс. балл	Кол-во набранных баллов
<i>Определите один правильный ответ</i>			
1.	<p>Данная дорожная разметка обозначает:</p>  <p><input checked="" type="radio"/> а) место, где велосипедная дорожка пересекает проезжую часть; <input type="radio"/> б) место, где водитель должен остановиться; <input type="radio"/> в) полосы движения в пределах перекрестка; <input type="radio"/> г) пересекать запрещается.</p>	1	1
2.	<p>Данный знак безопасности обозначает:</p>  <p><input type="radio"/> а) Радиационная опасность; <input type="radio"/> б) Внимание. Магнитное поле; <input checked="" type="radio"/> в) Внимание. Электромагнитное поле; <input type="radio"/> г) Внимание. Опасно!</p>	1	1
3.	<p>Под местом массового пребывания людей понимается территория общего пользования, на которой может одновременно находиться более:</p> <p><input type="radio"/> а) 30 человек; <input checked="" type="radio"/> б) 40 человек; <input type="radio"/> в) 45 человек; <input type="radio"/> г) 50 человек.</p>	1	0
4.	<p>Картографический прибор, предназначенный для измерений длин кривых линий, называется:</p> <p><input checked="" type="radio"/> а) пантограф; <input type="radio"/> б) координатограф; <input type="radio"/> в) курвиметр; <input type="radio"/> г) планиметр.</p>	1	0

5.	<p>Вредные вещества по воздействию на организм человека относящиеся к третьему классу опасности называются:</p> <p>а) высокоопасные;</p> <p>б) чрезвычайно опасные;</p> <p><input checked="" type="radio"/> в) умеренно опасные;</p> <p>г) малоопасные.</p>	1	1
6.	<p>Соединения Вооруженных Сил Российской Федерации привлекаются для участия в проведении контртеррористической операции по решению:</p> <p>а) Министра обороны РФ;</p> <p>б) Министра внутренних дел РФ;</p> <p>в) Министра юстиции РФ;</p> <p><input checked="" type="radio"/> г) Президента РФ.</p>	1	1
7.	<p>Баллистический удар является разновидностью:</p> <p>а) гидравлического удара;</p> <p>б) аэродинамического удара;</p> <p><input checked="" type="radio"/> в) механического удара;</p> <p>г) теплового удара.</p>	1	1
8.	<p>Вещества и материалы способные гореть после удаления источника зажигания относятся к:</p> <p>а) малогорючим;</p> <p>б) негорючим;</p> <p>в) трудногорючим;</p> <p><input checked="" type="radio"/> г) горючим.</p>	1	1
9.	<p>Лесной пожар, охватывающий все компоненты лесного биогеоценоза называется:</p> <p>а) валежный пожар;</p> <p>б) повальный пожар;</p> <p><input checked="" type="radio"/> в) ландшафтный пожар.</p>	1	0
10.	<p>Для уничтожения танков, БМП, БТР и других бронированных целей – кумулятивной гранатой, а также живой силы противника – осколочной гранатой предназначен:</p> <p>а) РПК-74;</p> <p><input checked="" type="radio"/> б) РПГ-7;</p> <p>в) АГС-17 «Пламя»;</p> <p>г) ПКП «Печенег».</p>	1	1

<i>Верны ли приведенные суждения? Отметьте один правильный ответ</i>			
11.	<p>Проходя через организм человека электрический ток может вызывать</p> <p>А) термическое действие</p> <p>Б) электролитическое действие</p> <p>а) верно только А;</p> <p>б) верно только Б;</p> <p><input checked="" type="radio"/> в) верны оба суждения;</p> <p>г) оба суждения не верны.</p>	1	1
12.	<p>Определить стороны горизонта можно по Солнцу. В Северном полушарии Солнце находится на западе примерно:</p> <p>А) в 7 часов</p> <p>Б) в 19 часов</p> <p>а) верно только А;</p> <p><input checked="" type="radio"/> б) верно только Б;</p> <p>в) верны оба суждения;</p> <p>г) оба суждения не верны.</p>	1	1
13.	<p>Использование вредоносных компьютерных программ является:</p> <p>А) преступлением</p> <p>Б) административным правонарушением</p> <p><input checked="" type="radio"/> а) верно только А;</p> <p>б) верно только Б;</p> <p>в) верны оба суждения;</p> <p>г) оба суждения не верны.</p>	1	1
<i>Определите все правильные ответы</i>			
14.	<p>Вводят или отменяют определенные режимы и ограничения движения следующие знаки дорожного движения:</p> <p>а) приоритета;</p> <p><input checked="" type="radio"/> б) особых предписаний;</p> <p>в) предписывающие;</p> <p>г) информационные;</p> <p><input checked="" type="radio"/> д) запрещающие.</p>	2	2

15.	<p>Структура обозначения огнетушителей включает следующие обязательные части:</p> <p>а) модель огнетушителя;</p> <p><input checked="" type="radio"/> б) класс пожара для тушения, которого предназначен огнетушитель;</p> <p>в) условное название огнетушителя;</p> <p><input checked="" type="radio"/> г) геометрические размеры.</p>	2	1
16.	<p>К сигналам гражданской обороны относятся:</p> <p><input checked="" type="radio"/> а) радиационная опасность;</p> <p><input checked="" type="radio"/> б) пожар;</p> <p>в) биологическая тревога;</p> <p>г) химическая тревога.</p>	2	1
17.	<p>Областями зарождения тропических циклонов являются:</p> <p>а) Средиземное море;</p> <p><input checked="" type="radio"/> б) Атлантический океан;</p> <p><input checked="" type="radio"/> в) Индийский океан;</p> <p>г) Красное море.</p>	2	2
18.	<p>По длительности проведения выделяют следующие виды эвакуации:</p> <p><input checked="" type="radio"/> а) экстренная;</p> <p><input checked="" type="radio"/> б) упреждающая;</p> <p>в) продолжительная;</p> <p>г) среднесрочная.</p>	2	0
19.	<p>На автомагистралях запрещается:</p> <p><input checked="" type="radio"/> а) движение пешеходов;</p> <p>б) движение транспортных средств со скоростью менее 60 км/ч;</p> <p>в) движение транспортных средств со скоростью более 110 км/ч;</p> <p><input checked="" type="radio"/> г) учебная езда;</p> <p>д) движение мотоциклов.</p>	2	2
20.	<p>Из перечисленных наказаний к административным относятся:</p> <p><input checked="" type="radio"/> а) обязательные работы;</p> <p><input checked="" type="radio"/> б) принудительные работы;</p> <p><input checked="" type="radio"/> в) исправительные работы;</p> <p>г) лишение специального права;</p> <p>д) дисквалификация.</p>	3	1
	Количество баллов	max 28	19

Подписи членов жюри _____